

DEL 1 Uten hjelpemidler

Oppgave 1 (5 poeng)

Deriver funksjonene

a) $f(x) = 2 \cdot e^{3x}$

b) $g(x) = 2x \cdot \ln(3x)$

c) $h(x) = \frac{2x-1}{x+1}$

Oppgave 2 (3 poeng)

Polynomfunksjonen P er gitt ved

$$P(x) = x^3 - 6x^2 + 11x - 6$$

a) Vis at divisjonen $P(x) : (x-1)$ går opp, uten å utføre divisjonen.

b) Utfør polynomdivisjonen og løs ulikheten $P(x) \geq 0$.

Oppgave 3 (2 poeng)

I $\triangle ABC$ er $AB = 10,0$ cm og $\angle C = 90^\circ$. Høyden h fra C til AB er $4,0$ cm.

Konstruer $\triangle ABC$ gitt at BC er den lengste kateten. Forklar hva du har gjort.

Oppgave 4 (2 poeng)

En elev skulle løse en likning og begynte slik:

$$2^{3x-1} = 2^2 + 2^2 + 2^2 + 2^2$$

\Updownarrow

$$2^{3x-1} = 4 \cdot 2^2$$

Fullfør løsningen av likningen.

Oppgave 5 (4 poeng)

Vi har gitt vektorene $\vec{a} = [1, 3]$, $\vec{b} = [3, 2]$ og $\vec{c} = [-1, 2]$.

- Tegn vektorene $\vec{u} = \vec{a} + 2\vec{b}$ og $\vec{v} = \vec{b} - 2\vec{c}$ i et koordinatsystem.
- Avgjør ved regning om $\vec{u} \perp \vec{v}$.

Oppgave 6 (5 poeng)

En funksjon f er gitt ved

$$f(x) = -\frac{1}{3}x^3 + 2x^2, \quad D_f \in \mathbb{R}$$

- Bestem $f'(x)$ og $f''(x)$.
- Bestem koordinatene til eventuelle topp-, bunn- og vendepunkter på grafen til f .
- Lag en skisse av grafen til f . Bruk denne til å avgjøre for hvilke x -verdier $f'(x) > 0$ og samtidig $f''(x) < 0$.

Oppgave 7 (3 poeng)

To sirkler S_1 og S_2 er gitt ved

$$S_1 : x^2 + y^2 = 25$$

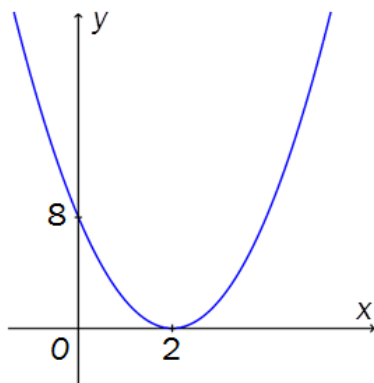
$$S_2 : (x - a)^2 + y^2 = 9$$

- Tegn sirklene i et koordinatsystem når $a = 6$.
- For hvilke verdier av a vil sirklene tangere hverandre?

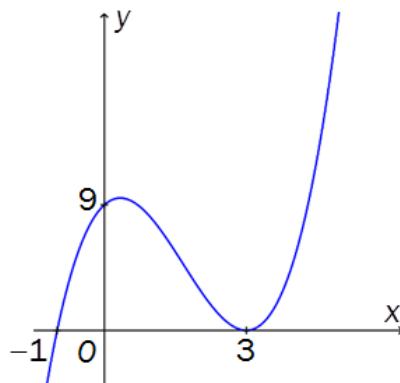
DEL 2 Med hjelpemidler

Oppgave 1 (6 poeng)

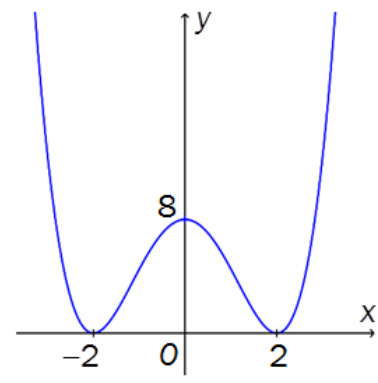
Når grafen til en polynomfunksjon tangerer x-aksen i $x = a$, har funksjonen minst to like (sammenfallende) nullpunkter i $x = a$.



Figur 1



Figur 2



Figur 3

- a) Grafen til en andregradsfunksjon f er vist på figur 1. Grafen tangerer x-aksen i $x = 2$.

Forklar at $f(x) = 2 \cdot (x - 2)^2$

- b) Grafen til en tredjegradsfunksjon g er vist på figur 2. Grafen tangerer x-aksen i $x = 3$.

Forklar at funksjonsuttrykket til g kan skrives på formen $g(x) = k \cdot (x - 3)^2 \cdot (x + 1)$
Bestem k .

- c) Grafen til en fjerdegradsfunksjon h er vist på figur 3. Grafen tangerer x-aksen i $x = -2$ og i $x = 2$.

Bestem funksjonsuttrykket $h(x)$.

Oppgave 2 (4 poeng)

Funksjonen f er gitt ved

$$f(x) = \frac{2x-1}{x+1}, \quad D_f = \mathbb{R} \setminus \{-1\}$$

a) Bestem asymptotene til f . Tegn grafen til f med asymptoter.

Funksjonen g er gitt ved

$$g(x) = x - 1, \quad D_g = \mathbb{R}$$

b) Bestem skjæringspunktene mellom grafene til f og g ved regning.

Oppgave 3 (6 poeng)

Figuren til høyre viser grafen til funksjonen f gitt ved

$$f(x) = x^2 + 21, \quad x \in \langle 0, \rightarrow \rangle$$

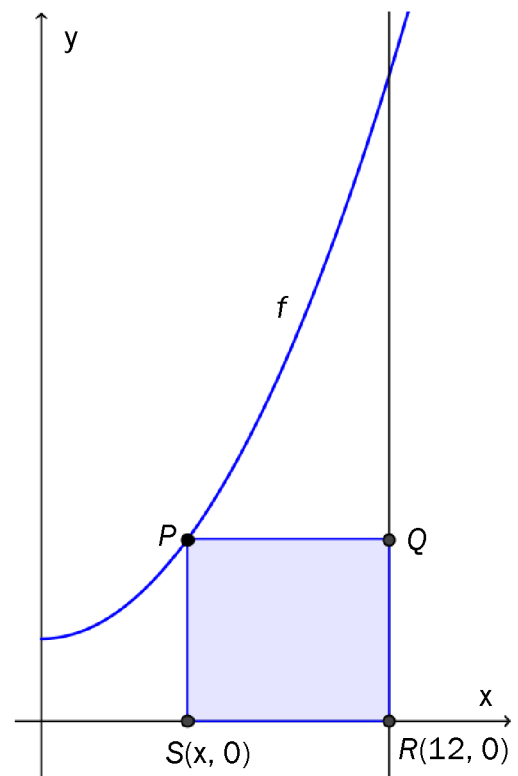
Rektangelet $PSRQ$ lages slik at P ligger på grafen til f , punktene S og R ligger på x -aksen, og R og Q har førstekoordinat $x = 12$. Punktet S ligger mellom origo og R .

a) Forklar at arealet av rektanglet $PSRQ$ kan skrives som

$$A(x) = -x^3 + 12x^2 - 21x + 252, \quad x \in \langle 0, 12 \rangle$$

b) Bestem $A'(x)$ og bruk denne til å bestemme største og minste verdi som arealet av rektanglet kan ha.

c) Tegn grafen til A , og kontroller om svarene dine fra oppgave b) stemmer.

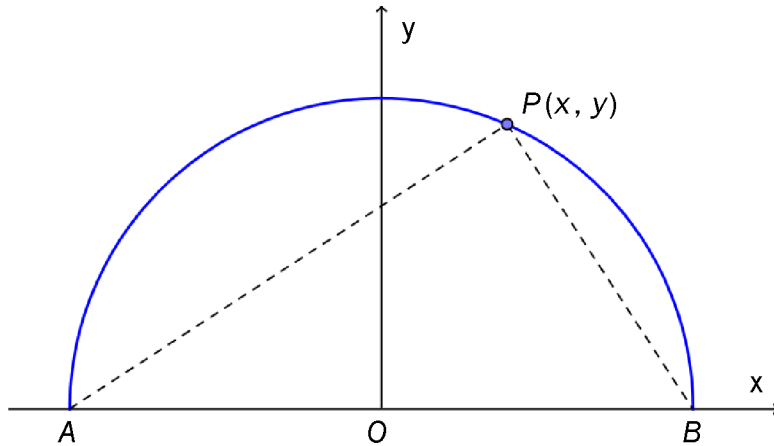


Oppgave 4 (4 poeng)

En sirkel med radius r og sentrum i origo er gitt ved

$$x^2 + y^2 = r^2$$

Punktet $P(x, y)$ er et vilkårlig punkt på den øvre halvsirkelen. Se skissen nedenfor.



- Bestem koordinatene til punktene A og B uttrykt ved r .
Bestem vektorkoordinatene til \vec{PA} og \vec{PB} .
- Vis ved vektorregning at $\angle APB = 90^\circ$.

Oppgave 5 (6 poeng)

Ved en videregående skole skal elevene velge fag. Hendelsene M og F definerer vi slik:

M : Eleven velger matematikk.

F : Eleven velger fysikk.

Vi får opplyst at $P(M) = 0,64$, $P(F) = 0,32$ og $P(\overline{M \cup F}) = 0,30$.

- Bestem $P(M \cap F)$ og $P(M \cap \overline{F})$.
- Bestem $P(F | M)$. Undersøk om hendelsene M og F er uavhengige.
- Bruk Bayes' setning til å bestemme $P(M | F)$.

Oppgave 6 (8 poeng)

I et koordinatsystem har vi gitt punktene $A(-3, -3)$, $B(3, 1)$ og $D(-2, 2)$.

a) Bestem $\angle BAD$ og arealet av $\triangle ABD$.

Et punkt C er gitt ved at $DC \parallel AB$ og $\angle ABC = 90^\circ$.

b) Bestem ved regning koordinatene til C .

En parameterframstilling for linjen l som går gjennom C og D , er gitt ved

$$l: \begin{cases} x = -2 + 3t \\ y = 2 + 2t \end{cases}$$

Et punkt E har koordinatene $(s, 2s - 2)$.

c) Bestem ved regning en verdi for s slik at E ligger på l .

d) Bestem koordinatene til punktet E når $|\overrightarrow{AE}| = |\overrightarrow{BE}|$.

Oppgave 7 (2 poeng)

Løs likningen med hensyn på x

$$n^2 \cdot \left(\frac{x}{n}\right)^{\lg(x)-2} = x^2, \quad x > 0 \wedge n > 0$$